

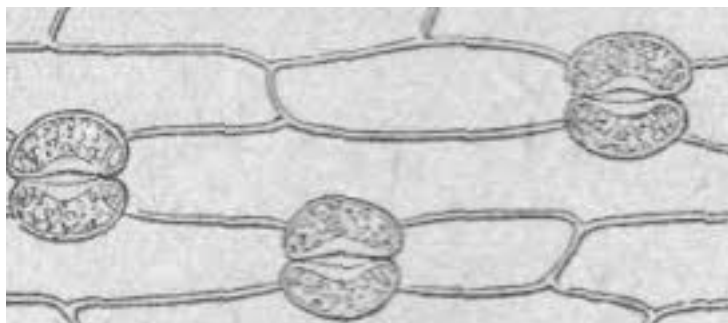
Nom, Prénom :

Classe :

Date :

4.4 : Savoir son cours pour répondre à une question.	MI	MF	MS	TBM
3.4 : Se perfectionner en demandant un exercice	MI	MF	MS	TBM

Exercice 1 : L'épiderme des végétaux.



Sur le schéma de l'épiderme de poireau:

1) **Entourer** un stomate.

2) **Colorier en :**

- ☞ **Vert** : une cellule de garde.
- ☞ **Rouge** : un ostiole.
- ☞ **Bleu** : une cellule épidermique.

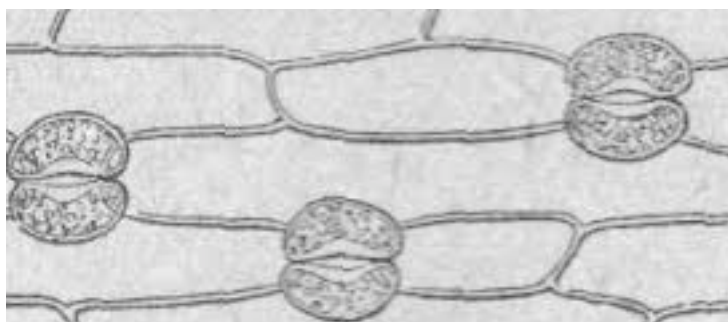
Nom, Prénom :

Classe :

Date :

4.4 : Savoir son cours pour répondre à une question.	MI	MF	MS	TBM
3.4 : Se perfectionner en demandant un exercice	MI	MF	MS	TBM

Exercice 1 : L'épiderme des végétaux.



Sur le schéma de l'épiderme de poireau:

1) **Entourer** un stomate.

2) **Colorier en :**

- ☞ **Vert** : une cellule de garde.
- ☞ **Rouge** : un ostiole.
- ☞ **Bleu** : une cellule épidermique.

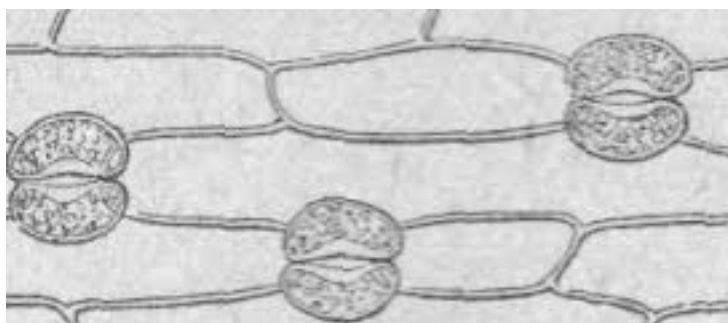
Nom, Prénom :

Classe :

Date :

4.4 : Savoir son cours pour répondre à une question.	MI	MF	MS	TBM
3.4 : Se perfectionner en demandant un exercice	MI	MF	MS	TBM

Exercice 1 : L'épiderme des végétaux.



Sur le schéma de l'épiderme de poireau:

1) **Entourer** un stomate.

2) **Colorier en :**

- ☞ **Vert** : une cellule de garde.
- ☞ **Rouge** : un ostiole.
- ☞ **Bleu** : une cellule épidermique.